

北京博飞教育中心（华侨港澳台联考辅导中心）

<http://www.pkuzyw.com> 电话：13811901826

绝密★启用前

2010 年中华人民共和国普通高等学校
联合招收华侨、港澳地区、台湾省学生考试
地 理

题号	一	二	三	四	总分
分数					

得分	评卷人

一，选择题（共 60 分）本题共 20 小题，每小题 4 个选项中有一个正确。
选对的 3 分，错选或多选没有分。

图 1 中大圆是赤道，圆内弧线为晨昏线。N 点为北极，NK、NL 是经

线。NL 的经度为 180° ，扇形区域 KNL 与其他区域日期不同。读图 1，完成 1~3 题。

1，此时北京时间为（ ）

- A. 5 时
- B. 9 时
- C. 17 时
- D. 21 时

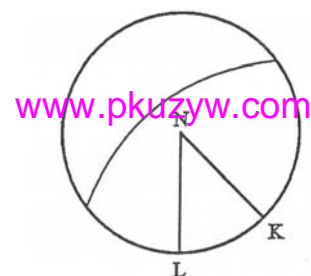


图 1

2，这一时期各地区可能出现的现象是（ ）

- A. 圣彼得堡常雨雪交加
- B. 洛杉矶高温少雨
- C. 华北平原夏粮丰收
- D. 南极长城考察站长夜漫漫

3，K 点的经度为（ ）

- A. 135°E
- B. 135°W
- C. 150°E
- D. 150°W

当前全球变暖已经称为人类生存和发展所面临的严重问题。完成 4-5 题。

4. 在中低纬地区全球变暖引发的稳定持久的现象是（ ）
- A. 台风活动频繁
 - B. 干旱
 - C. 海平面持续上升
 - D. 热带雨林面积锐减
5. 目前，经济活动和生活已经受到此现象严重威胁的国家或地区是（ ）
- A. 亚马孙平原
 - B. 马达加斯加岛
 - C. 长江中下游平原
 - D. 马尔代夫
6. 下列城市中，石油加工工业占最突出地位的是（ ）
- A. 休斯顿
 - B. 利马
 - C. 雅加达
 - D. 洛杉矶
7. 受三大板块影响，火山地震频发的地区是（ ）
- A. 马来群岛
 - B. 汤加群岛
 - C. 西印度群岛
 - D. 密克罗尼西亚群岛
8. 在我国向东部输送电力的省区中，电能构成水火并重的是（ ）
- A. 广西
 - B. 贵州
 - C. 云南
 - D. 四川
9. 以保护大熊猫为主要目的之一的自然保护区是（ ）
- A. 长白山自然保护区
 - B. 鼎湖山自然保护区
 - C. 卧龙自然保护区

D. 梵净山自然保护区

10. 下列地区中，降水季节分配不均，且年际变化最显著的是（ ）

- A. 青藏高原
- B. 塔里木盆地
- C. 珠江三角洲
- D. 华北平原

11. 主峰与四个国家相邻的山脉是（ ）

- A. 阿尔泰山脉
- B. 安第斯山脉
- C. 阿尔卑斯山脉
- D. 落基山脉

12. 导致珠江三角洲地区地下水污染的主要产业是（ ）

- A. 果品种植业
- B. 旅游业
- C. 电子加工业
- D. 交通运输业

13. 世界上与香港齐名的天然良港是（ ）

- A. 圣弗朗西斯科、里约热内卢
- B. 瓦尔帕莱索、达累斯萨拉姆
- C. 鹿特丹、悉尼
- D. 摩尔曼斯克、符拉迪沃斯托克

14. 在世界著名的传统工业地域中，能源依赖国际市场的是（ ）

- A. 德国鲁尔区
- B. 美国东北部工业区
- C. 英国中部工业区
- D. 日本太平洋沿岸工业地带

欧洲、北美、日本是世界三大鲜切花市场。近些年来，发达国家的一些鲜切花生产企业到发展中国家投资生产鲜切花。完成 15~16 题。

15. 发展中国家吸引发达国家企业投资生产鲜切花的优势条件是（ ）

- A. 生产成本低

- B. 生产技术高
 - C. 市场广阔
 - D. 交通运输方便
16. 广东、海南、云南省与我国其他省份相比，吸引国际鲜切花产业转移的优势条件是（ ）
- A. 劳动力资源丰富
 - B. 土地资源丰富
 - C. 热量丰富
 - D. 本地市场潜力大
17. 下列四个国家中，人口分布特点与澳大利亚相似的是（ ）
- A. 法国
 - B. 埃及
 - C. 巴西
 - D. 印度
18. 世界最大的天然橡胶生产基地位于（ ）
- A. 南美洲
 - B. 东南亚
 - C. 南亚
 - D. 非洲
19. 我国甘肃省西北部正在开发有“陆上三峡”之称的能源生产基地，其开发的能源是（ ）
- A. 太阳能
 - B. 核能
 - C. 风能
 - D. 地热能
20. 与我国西气东输二线工程管道西端连接的国家是（ ）
- A. 哈萨克斯坦
 - B. 塔吉克斯坦
 - C. 俄罗斯
 - D. 吉尔吉斯斯坦

得分	评卷人

二，填充题（共 20 分）本题共 20 个空格，每填对一空得 1 分。

21. 位于四川西部山地中的世界自然遗产是_____和_____。

湖北西部的世界文化遗产和自然保护区分别是_____和_____。

22. “三江并流”自然保护区位于_____省。“三江”从西向东依次为_____江、_____江和_____江。中间的一条江在_____市汇入_____海。

23. 非洲气候类型以赤道为中心呈南、北对称分布，自赤道向南、向北依次是_____气候、_____气候、_____气候、_____气候，期中面积最大的是_____气候。

24. 南美洲出口粮食最多的国家是_____，出口咖啡最多的国家是_____，出口石油最多的国家是_____，出口铁矿石最多的国家是_____，出口牛肉最多的国家是_____。

www.pkuzyw.com

得分	评卷人

三、读图、填图题（每题 10 分，共 40 分）

25，读图 2，将图中字母所代表的地理事物的名称填在相应的空格内。

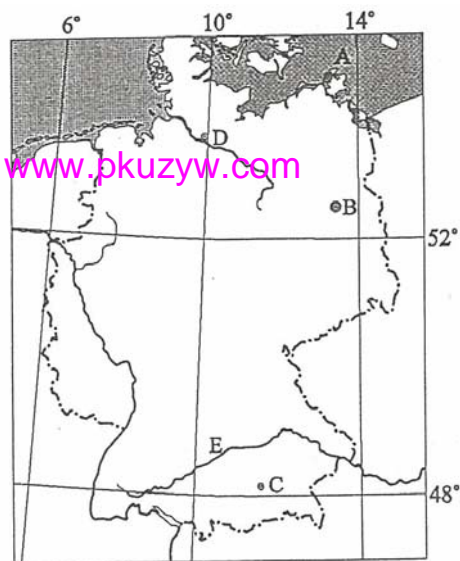


图 2

A 是_____海

B 是_____（城市）

C 是_____（城市）

D 是_____（港口）

E 是_____河。

26，读图 3，，将图中字母所代表的地理事物的名称填写在相应的空格内，并回答问题。

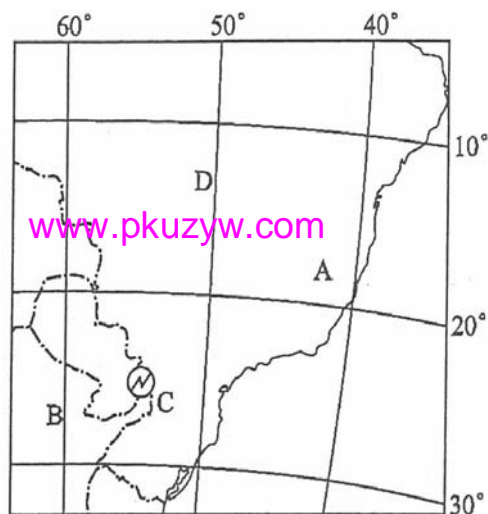


图 3

A 是_____（国家）

B 是_____（国家）

C 是_____（水电站）

D 区域位于_____高原，属于_____（自

然）带

27，读图 4，，将图中字母所代表的地理事物的名称填写在相应的空格内，并回答问题。

A 为 _____河，

B 为_____湖

C 为 _____ 湖

湖泊 C 所在的裂谷带是 _____ ； D 为
(山峰)，是该大洲最高的峰。

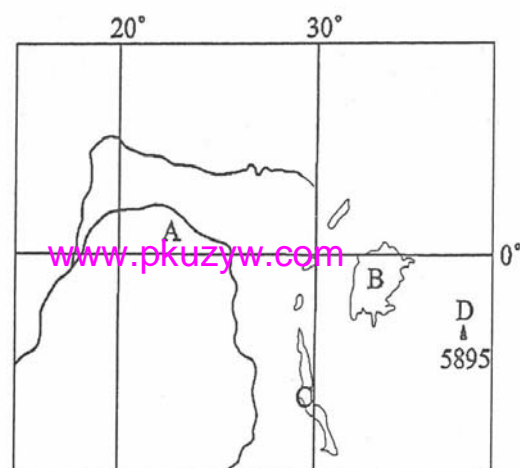


图 4

28 读图 5，将图中字母所代表的地理事物的名称填写
在相应的空格内。

A 为_____ (盆地)

B 是 _____ (山脉)

C 为 _____ (湖)

D 为 _____ (城市)

E 为 _____ (世界文化遗产)。

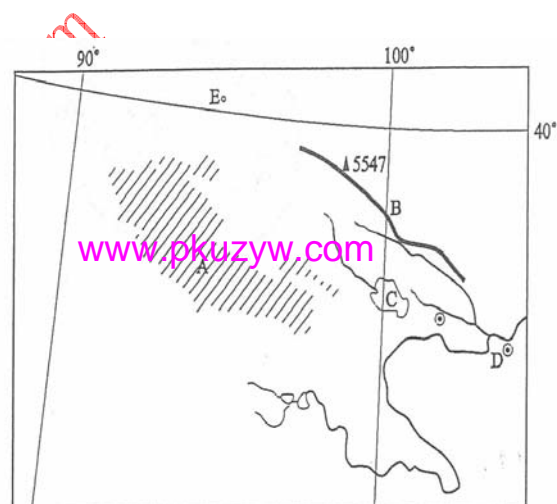


图 5

得分	评卷人

四、综合题（共 30 分）

29，分析图 6 中两大岛屿的降水空间分布特点并说明原因。（15 分）

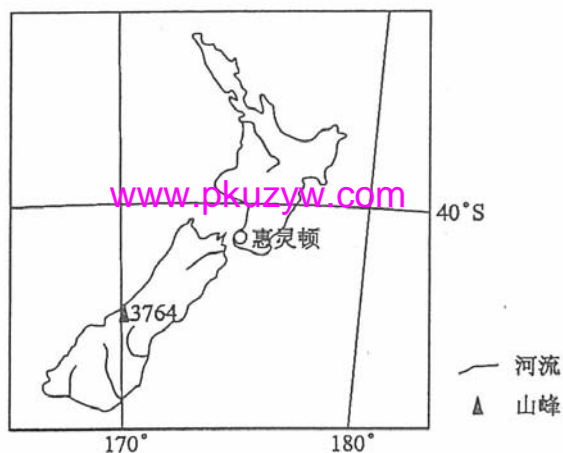


图 6

30，图 7 中甲、乙两城市相距约 200 千米。读图 7 说明河流对甲、乙两城市区位的影响（15 分）



图 7